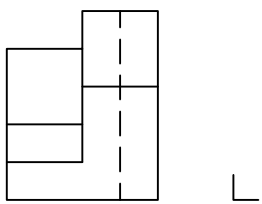
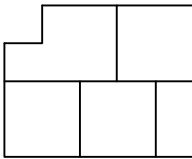




Dadas dos de las vistas de un cuerpo, dibujar la vista faltante y realizar el dibujo isométrico en escala 1,5:1, respetando la posición señalada por el cubo.
 Si la **altura** del **cuerpo** es 750 mm, la escala en que se representaron las vistas es **E=__:__**.





Dadas dos de las vistas fundamentales de un cuerpo, dibujar la vista faltante y realizar el dibujo isométrico, en la posición indicada por el cubo.
 Acote una cara inclinada (**indicando A, H, P**) en las vistas, suponiendo que el dibujo esta en *escala* 1:5.

