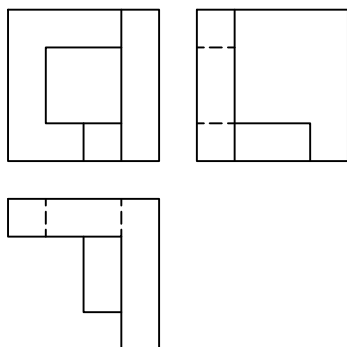
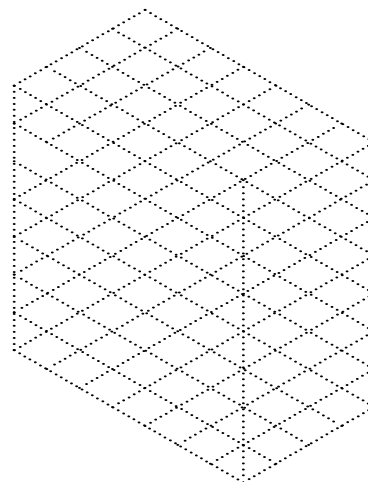
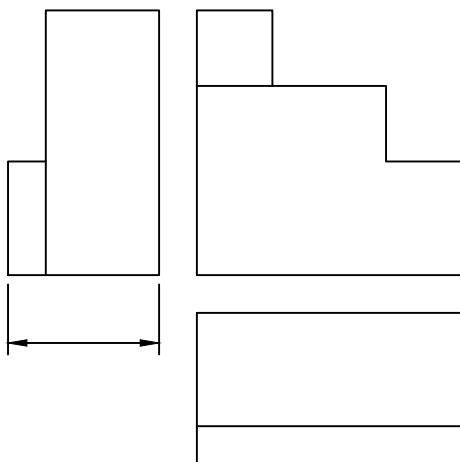


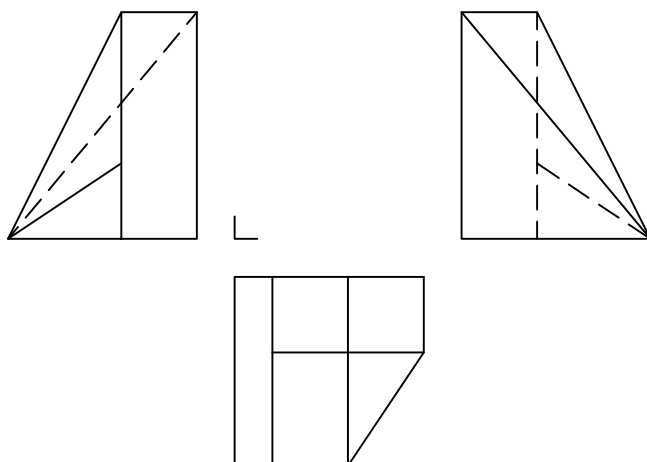
Dadas las vistas fundamentales de un cuerpo, realizar el dibujo isométrico en escala 2:1, en la posición indicada por el cubo. Indique la escala en que están dibujadas las vistas, si la **profundidad** del objeto representado es de **600 mm**. Esc. = __:__



Dadas las vistas **incompletas** de un cuerpo, **completar con las aristas faltantes** y realizar el dibujo isométrico en la posición indicada por el cubo. Si la Escala de las V.F. es **1:6**, complete la cota indicada.



Dadas **dos** de las **vistas** de un modelo, dibujar **la vista faltante** y realizar el dibujo isométrico en escala 1:1, en la posición indicada por el cubo. Acote las medidas **totales (A,H,P)** en el isométrico, si las V.F.del dibujo están en escala 4:1.



Universidad Nacional de San Juan
Facultad de Ingeniería

Dibujo y Sistemas de Representación

Fecha Revisó

Alumno

Registro Espec. Grupo TP N°

VISUALIZACIÓN IV
Cuadernillo de Ejercitación

1/2